

## Демонстрация годовой контрольной работы по географии 5 класс

Критерии оценивания:

Максимальное количество баллов за работу - 16 балла.

За каждый правильный ответ заданий – 1 балл ;

Для учащихся с ОВЗ больше подходит 2 вариант.

«5»- 14-16 баллов

«4»- 11-13 балла

«3»- 8-10 баллов

«2»- 7 баллов и меньше

### Вариант 1

1. Какая наука изучает разнообразные явления природы?

а) астрономия

б) география

в) физика

г) химия

2. Какая из планет земной группы имеет спутники?

а) Меркурий

б) Венера

в) Марс

г) Нептун

3. Земля отличается от других планет Солнечной системы

а) наличием спутника

б) наличием жизни

в) вращением вокруг оси

г) наличием атмосферы

4. В чем заслуга экспедиции С.И. Дежнёва?

а) было доказано, что Евразия и Америка не соединены между собой

б) была открыта Антарктида

в) был открыт Северный полюс

г) были открыты Командорские острова

5. Что показано зеленым цветом на географической физической карте?

а) растительность

б) низкие равнины

в) болота

г) места, где живут люди

6. Если встать лицом на юг, то справа окажется

а) север

б) восток

в) запад

г) северо-запад

7. В самом центре Земли находится

а) мантия

б) земная кора

в) литосфера

г)ядро

8. Больше всего пресной воды содержится

а)в ледниках

б)в озерах

в)в реках

г)в болотах

9. Установите соответствие между открытием и именем путешественника.

Впишите в таблицу получившееся соответствие.

Открытия Путешественники

А) английский мореплаватель, 1) Ф. Магеллан  
исследователь южных морей 2) Дж.Кук

Б) мореплаватель, совершивший 3) Васко да Гама  
первое кругосветное путешествие

В) Нашел морской путь в Индию.

10. Экспедиция под руководством Бартоломео Диаша достигла  
самой \_\_\_\_ точки Африканского материка:

а) северной

б) восточной

в) южной

г) западной

11. Запишите к каждому материка буквы, под которыми указаны  
принадлежащие ему объекты: формы рельефа, крупные озера и реки.

1) Евразия А) река Нил

2) Африка Б) озеро Байкал

3) Австралия В) горы Анды

4) Южная Америка Г) река Муррей

12. Васко да Гама удалось доплыть до:

А) Африки

Б) Индии

В) Америки

Г) Кубы

13. Количество больших планет, входящих в состав Солнечной системы:

1) 8; 2) 12; 3) 5; 4) 9

14. Землетрясения и извержения вулканов чаще всего происходят

а) в южных районах

б) в центрах плит земной коры

в) на границах плит земной коры

г) на побережье океана

15. Экватор является:

а) самой длинной параллелью

б) самым длинным меридианом

в) самой короткой параллелью

г) самым коротким меридианом

16. Русский ученый, создавший учение о почвоведении?

а) Воейков б) Алисов в) Вернадский г) Докучаев

## Вариант 2

1. В чем заслуга экспедиции Ф. Магеллана?

- а) было доказано, что Америка - новый материк
- б) было доказано единство Мирового океана
- в) был найден кратчайший путь в Индию
- г) была открыта Австралия

2. Аристотель и Птолемей центром системы мира и Вселенной считали

- а) Солнце
- б) Землю
- в) сферу неподвижных звёзд
- г) Луну

3. Какая из планет Солнечной системы имеет самые большие размеры?

- а) Юпитер
- б) Сатурн
- в) Уран
- г) Нептун

4. Кто из великих ученых древности сумел вычислить размеры земного шара?

- а) Геродот
- б) Эратосфен
- в) Пифей
- г) Бартоломео Диаш

5. Самая дальняя от Солнца из планет земной группы:

- а) Земля; б) Марс; в) Венера; г) Меркурий

6. Что называется литосферой?

- а) твердое ядро Земли
- б) вещество между ядром и земной корой
- в) верхняя твердая оболочка Земли
- г) все горные породы и минералы

7. В Южной Америке протекает самая полноводная река мира

- а) Нил
- б) Миссисипи
- в) Янцзы
- г) Амазонка

8. Гидросферой называется

- а) вся вода Мирового океана
- б) водяной пар в атмосфере
- в) водная оболочка нашей планеты
- г) вода в жидком состоянии

9. Азимут отсчитывается:

- а) от севера по часовой стрелке
- б) от севера против часовой стрелки
- в) от юга по часовой стрелке
- г) от юга против часовой стрелки

10. Виллем Янсзон высадился на этот материк в 1606г. и обследовал его побережье на протяжении 350 км. :

- а) Северная Америка
- б) Австралия
- в) Ю-В Азия
- г) Антарктида

11. Выберите соответствие между материком и географическим объектом

- 1. Австралия А) остров Сахалин
- 2. Евразия Б) озеро Эри
- 3. Северная Америка В) река Нил
- 4. Африка Г) горы Кордильеры

12. От экватора отсчитывается :

- а) западная и восточная долгота
- б) северная и южная долгота
- в) западная и восточная широта
- г) северная и южная широта

13. Выберите соответствие. Когда произошли эти события?

- 1) Первый полёт человека в космос А) 12 апреля 1961г.
- 2) Первый выход человека в космос Б) 21 июля 1969г.
- 3) Первая высадка людей на Луну В) 18 марта 1965г.

14. В каком направлении вы двигаетесь, если рано утром солнце находится позади вас?

- а) север
- б) восток
- в) запад
- г) северо-запад

15. Укажите, каким цветом на физической карте показаны горы:

- а) темно- зеленым б) коричневым в) желтым г) светло- зеленым

16. Как называются самые плодородные почвы?

- а) чернозем б) подзолистые в) тундрово-глеевые г) бурые

## Демоверсия годовой контрольной работы по географии 7 класс

Контрольная работа по курсу географии материков и океанов 7 класс представлена в форме КИМов, составленных в формате ЕГЭ в двух вариантах и включают задания трех уровней сложности: **А, В и С.**

**Часть А** включает 18 заданий базового уровня. На вопрос предлагаются четыре варианта ответов, из которых верным может быть только один.

**Часть В** — более сложный уровень. 4 задания, представленные в этой группе, требуют от учащихся более глубоких знаний. Ответом к заданиям этой части является последовательность букв или цифр.

**Часть С** — уровень повышенной сложности. При выполнении этих заданий требуется применить практические навыки или дать развернутый ответ. На выполнение контрольной работы по географии отводится 45 минут. Разрешается использование атласов, калькуляторов, линейки.

### Критерии оценивания

За правильный ответ на задания: части А — 1 балл; части В и С—2 балла.

**Максимальный первичный балл- 30 баллов.**

Если ученик правильно отвечает на 50—70% вопросов, то получает оценку «3», 70—90% правильных ответов — «4», 90—100% правильных ответов — «5».

### Шкала пересчета первичного балла за выполнение итоговой контрольной работы в отметку по пятибалльной шкале

Оценка по пятибалльной шкале	«2»	«3»	«4»	«5»
Общий балл	1-16	17-20	21-27	28-35

## Годовая контрольная работа по географии 7 класс

### I Вариант.

**Часть I. Задания содержат разные варианты ответа. Только один из них верный.**

**Правильный ответ – 1 балл.**

1. Крайние точки Северной Америки:

А. Альмади, Бен-Секка, Игольный, Рас-Хафун; Б. Мерчисон, Сент-Чарльз, Марьято, Принца Уэльского ; В. Гальинас, Кабу-Бранку, Фроуард, Париньяс.

2. Африку от Евразии отделяет:

А. Гибралтарский пролив; Б. Суэцкий перешеек; В. Панамский канал.

3. Страны Южной Америки:

А. Бразилия, Аргентина, Перу; Б. Китай, Россия, Казахстан;

В. США, Канада, Мексика; Г. Египет, Сомали, Алжир.

4. В каком океане находится Марианский глубоководный желоб:

А. Индийском, Б. Тихом, В. Атлантическом, Г. Северном Ледовитом.

5. Какие формы рельефа образуются в складчатых областях:

А. Равнины; Б. платформы; В. Горы; Г. Низменности.



- |                             |                 |
|-----------------------------|-----------------|
| 2. Тихий океан              | Б. Белое море   |
| 3. Индийский океан          | В. Чёрное море  |
| 4. Северный Ледовитый океан | Г. Красное море |

В2. Установите соответствие между материком и горными системами:

- |                     |                                  |
|---------------------|----------------------------------|
| 1. Африка           | А. Гималаи                       |
| 2. Северная Америка | Б. Большой Водораздельный хребет |
| 3. Австралия        | В. Атлас                         |
| 4. Южная Америка    | Г. Кордильеры                    |
| 5. Евразия          | Д. Анды                          |

В3. Установите соответствие между материком и обитающим там животным:

- |                     |             |
|---------------------|-------------|
| 1. Африка           | А. Ехидна   |
| 2. Северная Америка | Б. Койот    |
| 3. Австралия        | В. Капибара |
| 4. Южная Америка    | Г. Окапи    |

В4. Установите соответствие между материком и произрастающим там растением:

- |                     |             |
|---------------------|-------------|
| 1. Африка           | А. Евкалипт |
| 2. Северная Америка | Б. Баобаб   |
| 3. Австралия        | В. Секвойя  |
| 4. Южная Америка    | Г. Сейба    |

**Часть С. За правильный ответ – 3 балла. Максимальное количество – 9 баллов.**

С1. Почему на полуострове Флорида широко распространены болота?

Укажите не менее двух причин.

С2. Почему в пустыне Сахара велики суточные амплитуды температур?

## II вариант.

**Часть I. Задания содержат разные варианты ответа. Только один из них верный.**

**Правильный ответ – 1 балл.**

1. Крайние точки Африки:

А. Альмади, Бен-Секка, Игольный, Рас-Хафун; Б. Мерчисон, Сент-Чарльз, Марьято, Принца Уэльского; В. Гальинас, Кабу-Бранку, Фроуард, Париньяс.

2. Какой объект назван в честь Магеллана, совершившего первое кругосветное путешествие:

А. Море; Б. Река; В. Водопад; Г. Пролив.

3. Страны Северной Америки:

А. Бразилия, Аргентина, Чили; Б. Китай, Россия, Казахстан;

В. США, Канада, Мексика; Г. Египет, Венесуэла, Алжир.

4. В каком климатическом поясе низкое атмосферное давление:

А. Арктическом, Б. Умеренном, В. Тропическом, Г. Субарктическом.

5. Зоны современных землетрясений и вулканизма расположены:

А. На платформах; Б. На окраинах всех материков; В. На границах литосферных плит; Г. В складчатых областях.

6. Чем объясняется высокая солёность Красного моря:  
 А. Высоким испарением в условиях пустынного тропического климата;  
 Б. Особенности подводного мира; В. Соседством с пустыней Сахара; Г. Сильным загрязнением вод.
7. Высокая температура и влажность в течение всего года характерна для воздушных масс:  
 А. Арктических; Б. Умеренных; В. Тропических; Г. Экваториальных.
8. Что в Австралии называют скрэбом:  
 А. Примитивное млекопитающее; Б. Редкий хищник, сохранившийся только в Танзании; В. Разновидность эвкалиптов; Г. Густые заросли колючих акаций и эвкалиптов.
9. Тёплым течением является:  
 А. Сомалийское; Б. Гольфстрим; В. Калифорнийское; Г. Перуанское.
10. Самая полноводная река Африки; полноводна в течение всего года, имеет пороги и водопады:  
 А. Конго; Б. Нил; В. Замбези; Г. Нигер.
11. Выберите озеро, расположенное в Северной Америке:  
 А. Танганьика; Б. Виктория; В. Байкал; Г. Большое Невольничье озеро.
12. Потомков от браков европейцев и негров в Южной Америке называют:  
 А. Метисы; Б. Мулаты; В. Самбо;
13. На каком материке встречаются такие животные: ехидна, утконос, коала, кенгуру:  
 А. Евразия; Б. Африка; В. Австралия; Г. Южная Америка; Д. Северная Америка.
14. Самая длинная река в Европе — это:  
 а) Печора б) Волга в) Дон
15. Определите происхождение Великих озер.  
 а) ледниковое, тектоническое б) карстовое, вулканическое  
 в) термокарстовое, тектоническое
16. Как называют влажные экваториальные леса Южной Америки;  
 а) сельва б) льянос в) кампос
17. Определите, что такое "атолл".  
 а) скопление раковин б) группа островов  
 в) кораллы, находящиеся по краям подводного вулкана
18. Укажите коренную нацию материка Северная Америка.  
 а) американцы б) эскимосы в) канадцы

**Часть II. За правильный ответ – 2 балла.**

В1. Установите соответствие между морем и океаном, к которому оно относится:

- |                             |                    |
|-----------------------------|--------------------|
| 1. Атлантический океан      | А. Берингово море  |
| 2. Тихий океан              | Б. Карибское море  |
| 3. Индийский океан          | В. Море Бофорта    |
| 4. Северный Ледовитый океан | Г. Аравийское море |

В2. Установите соответствие между материком и равнинами:



- |                     |                                 |
|---------------------|---------------------------------|
| 1. Африка           | А. Центральные равнины          |
| 2. Северная Америка | Б. Оринокская низменность       |
| 3. Австралия        | В. Центральная низменность      |
| 4. Южная Америка    | Г. Пустыня Сахара               |
| 5. Евразия          | Д. Восточно-Европейская равнина |

В3. Установите соответствие между материком и обитающим там животным:

- |                     |               |
|---------------------|---------------|
| 1. Африка           | А. Утконос    |
| 2. Северная Америка | Б. Броненосец |
| 3. Австралия        | В. Овцебык    |
| 4. Южная Америка    | Г. Зебра      |

В4. Установите соответствие между материком и произрастающим там растением:

- |                     |                         |
|---------------------|-------------------------|
| 1. Африка           | А. Масличная пальма     |
| 2. Северная Америка | Б. Акации               |
| 3. Австралия        | В. Дынное дерево        |
| 4. Южная Америка    | Г. Бальзамическая пихта |

**Часть III. За правильный ответ – 3 балла.**

С1. Почему Баренцево море значительно теплее, чем Белое море, хотя находится севернее его?

С2. Почему на побережье Мексиканского залива зимой бывает резкое понижение температуры воздуха (до  $-10^{\circ}\text{C}$ )?

### Демоверсия годовой контрольной работы по географии 8 класс.

Работа состоит из 19 заданий: 14 заданий с выбором одного верного ответа из четырех предложенных, 1 задания с выбором двух правильных ответов из 5, 1 задание с кратким ответом, 2 задания на определение правильного порядка географического явления, 1 задание с развернутым ответом, в которых требуется найти причинно-следственные связи данного явления.

На выполнение проверочной работы отводится 45 мину.

Система оценивания отдельных заданий и работы в целом.

За каждый правильный ответ первой части (№1-14) ставится 1 балл. За правильное выполнение каждого из заданий II части, №15, 17 – 1 балл, №16, 18 – 2 балла. За правильно названную причину в 19 вопросе (III часть) – 1 балл, всего 3 балла. Максимальный балл за работу – 23 балла. «3» получает работа с 7-11, «4» - с 12-17, «5» - с 18-23 баллами

#### 1 Вариант.

1. Площадь РФ равна: А) 17,1 млн. км<sup>2</sup>; Б) 171 млн. км<sup>2</sup> В) 416,8 тыс. км<sup>2</sup>;
2. Самая протяженная граница России с государством:  
А) Монголия; Б) Казахстан; В) Украина.
3. Крайняя южная точка России – это:  
А) м. Флигели Б) г. Базардюзю В) м. Дежнева
4. Самые высокие горы России – это:  
А) Алтай; Б) Кавказ; В) Урал.
5. Руководил Великой Северной экспедицией командор:  
А) В. Беринг Б) С. Дежнев В) Е. Хабаров
6. Устойчивые участки земной коры называются:  
А) платформы; Б) щиты; В) складчатые области.
7. Наиболее сильная заболоченность характерна для равнины:  
А) Восточно-Европейской Б) Западно – Сибирской В) Среднесибирского плоскогорья.
8. Какая эра является древнейшей:  
А) кайнозойская Б) мезозойская В) архейская
9. Наибольшее влияние на формирование циклонов оказывает океан:  
А) Атлантический Б) Тихий В) Северный Ледовитый
10. Самая высокая вершина Сибири – гора: а) г. Народная; б) г. Белуха; в) г. Эльбрус.
11. Какое озеро имеет ледниковое происхождение:  
а) Ладожское б) Байкал в) Курильское
10. Республика Коми находится в природных зонах:  
а) степи и лесостепи б) смешанных лесов в) лесотундры и тайги
11. Облачная и ветреная, дождливая погода характерна для:  
а) антициклона; б) циклона; в) холодного фронта.
12. Внезапный коротковременный подъем воды в реке называется ... .
13. Какой из перечисленных видов природных ресурсов относится к исчерпаемым возобновимым?

а) каменный уголь; б) медные руды; в) энергия ветра; г) лесные.

14. Самая полноводная река России - это: А) Обь Б) Енисей  
В) Волга

15. Какие почвы формируются в зоне тундры:  
А) черноземы Б) подзолистые В) глеевые

16. В пределах древней платформы располагается природный регион:  
А) Русская равнина Б) Алтай В) Дальний  
Восток

17. Дайте определения понятиям: коэффициент увлажнения; морена; анклав

### 18 Установите соответствие.

Территория	Тип климата
1. 1. Приморье	А) муссонный
2. 2. Валдайская возвышенность	Б) резко континентальный
3. 3. Забайкалье	В) субарктический
4. 4. Ямал	Г) умеренно-континентальный

19. Определите природный район России по описанию.

«Здесь множество тёплых, горячих и просто кипящих озерков и фонтанов, лужиц самых разнообразных цветов: от небесно-голубого и бирюзового до коричневого и красного. Фыркают и плюются грязевые котлы, заросшие меломайником. Всё кругом пропитано паром. Трудно дышать. Медведи весной находят здесь тёплую грязь и греются в ней».

### 2 Вариант.

1. Площадь Республики Коми:

а) 17, 1 млн. кв. км б) 1, 7 млн. кв. км в) 416,8 тыс. кв.

км

2. Россия не граничит с государством:

а) Молдавией б) Кореей в)

Украиной;

3. Самый большой остров России:

а) Колгуев; б) Сахалин; в) Ратманова.

4. Горы расположены на: а) платформах; б) в складчатых  
областях; г) щитах..

5. Крайняя восточная материковая точка – это:

а) м. Дежнева б) Балтийская коса в) м. Челюскин

6. Полуостров Камчатка омывают воды морей:

а) Баренцево, Белое б) Охотское, Японское в) Берингово,

Охотское

7. Впервые вышел к Байкалу:

а) С. Дежнев б) Курбат Иванов в) В. Беринг

8. Самая длинная река России – это: а) Волга; б) Енисей; в) Лена;
9. Выделите формы рельефа, образованные деятельностью ветра:  
а) оползни; б) морены; в) дюны.
10. Какое озеро имеет вулканическое происхождение:  
а) Курильское б) Байкал в) Ладожское
11. Сухая, ясная, солнечная, безветренная погода характерна для:  
а) циклона; б) холодного фронта; в) антициклона.
12. Полуостров Таймыр находится в природной зоне:  
А) тайги Б) тундры В) широколиственных лесов
13. Какой из перечисленных видов природных ресурсов относится к исчерпаемым невозобновимым?  
а) лесные; б) водные; в) минеральные.
14. Какие почвы формируются в зоне степей:  
А) черноземы б) подзолистые в) глеевые
15. Большая часть Республики Коми находится в пределах климатического пояса:  
А) субарктического б) умеренно-континентального в) муссонного
16. Ежегодный продолжительный подъем воды в реке называется:  
А) паводок б) межень в) половодье
17. Дайте определения понятиям: карст; циклон; платформа
18. **Установите соответствие:**

Природная зона	Территория
1. Тундра	А) Сибирские Увалы
2. Степь	Б) полуостров Ямал
3. Тайга	В) Ставропольская возвышенность

19. Определите природный район России по описанию.  
«Край гранита, воды и лесов. Спокойна зеркальная гладь бесчисленных мелких озёр, окаймлённых дремучими лесами. Сказочно красивы их берега, сложенные из гранита и мрамора. Мощный ледник, точно гигантский панцирь, покрывавший некогда территорию, сползая на юг, придал её поверхности своеобразный облик. Сгладил острые гребни возвышенностей и гранитных гряд, углубил впадины, разбросал по территории огромные массы валунов».

## Демонстрация годовой контрольной работы по географии 9 класс

В работу включено 12 заданий с выбором ответа из 4-х предложенных, 1 задание открытого типа, требующих краткого ответа учащегося, 4 задания на установление соответствия, 2 задания - работа с топографической картой, 3 задания - определение объекта по описанию и географическим координатам.

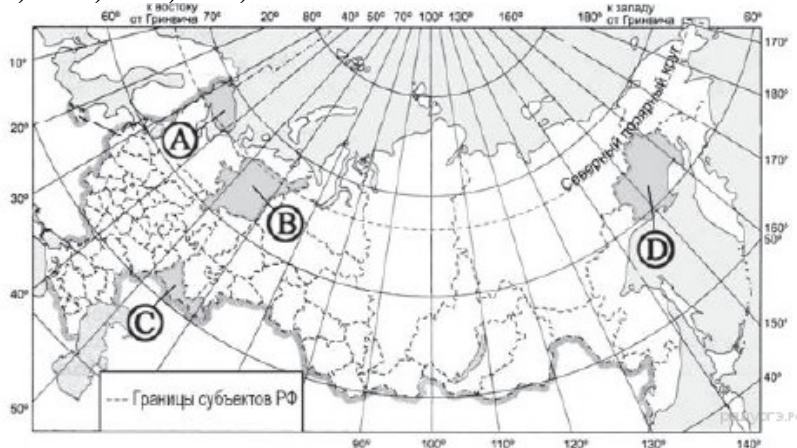
Время выполнения работы 45 минут

Дополнительные материалы и оборудование: при выполнении работы над текстом рекомендуется работать с картами географического атласа.

Если ученик правильно отвечает на 50—70% вопросов, то получает оценку «3», 70—90% правильных ответов — «4», 90—100% правильных ответов — «5».

### Вариант 1

1. Самая западная точка территории России расположена на границе с  
а) Литвой б) Германией в) Польшей г) Латвией
2. С какой из перечисленных групп стран Россия не имеет сухопутной границы?  
а) Финляндия и Эстония б) Грузия и Азербайджан в) Армения и Турция г) Польша и Белоруссия
3. Какая из территорий имеет наибольшую среднюю плотность населения?  
а) А б) В в) С г) D



4. Для какого из перечисленных регионов характерны формы рельефа, созданные деятельностью ледника?  
а) Приморский край б) Республика Карелия в) Республика Башкортостан г) Астраханская область
5. Расположите перечисленные ниже города в порядке увеличения в них численности населения.  
а) Нижний Новгород б) Краснодар в) Нарьян-Мар
6. Большинство верующих каких из перечисленных народов исповедуют ислам?  
а) буряты и калмыки б) башкиры и карелы в) татары и ингуши г) коми и эвенки

7. В каком из высказываний содержится информация о миграции населения?

а) тайга в Западной Сибири заселена редко, сёла в ней встречаются преимущественно вдоль речных долин

б) в 2008 г. более половины всех прибывших из-за пределов России на постоянное место жительства в регионы

Приволжского округа составляли выходцы из Узбекистана, Украины и Казахстана

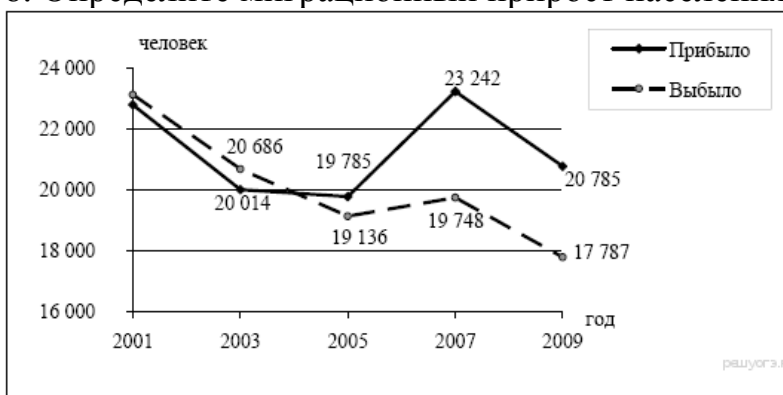
в) в Центральном федеральном округе средняя плотность населения наибольшая в России и составляет 57

человек на 1 кв. км

г) наибольшая доля детей в возрастной структуре характерна для населения Дагестана и других республик

Северного Кавказа

8. Определите миграционный прирост населения Тверской области в 2005 г.



9. К традиционным занятиям какого из перечисленных народов России относятся резьба по кости морского зверя и рыболовство?

а) татары б) чукчи в) буряты г) карачаевцы

10. Каким полезным ископаемым богата территория Республики Якутия:

а) нефть б) никель в) алмазы г) торф

11. Примером рационального природопользования является

а) распашка склонов на возвышенностях б) создание лесных полос в степной зоне

в) захоронение токсичных отходов вблизи крупных городов г) осушение болот в верховьях малых рек

12. Какой из перечисленных городов является центром автомобилестроения?

а) Рязань б) Ставрополь в) Тольятти г) Тула

13. Туристические фирмы разных регионов России разработали слоганы для привлечения туристов в свои регионы. Установите соответствие между слоганом и регионом.

#### РЕГИОН

А) Побывайте в Западном полушарии!

Б) Поднимитесь по склону высочайшей горы страны!

1) Чукотский автономный округ

2) Калининградская область

3) Кабардино-Балкарская Республика

4) Ставропольский край

14. Расположите регионы России в той последовательности, в которой их жители встречают Новый год.

а) Забайкальский край б) Брянская область в) Курганская область

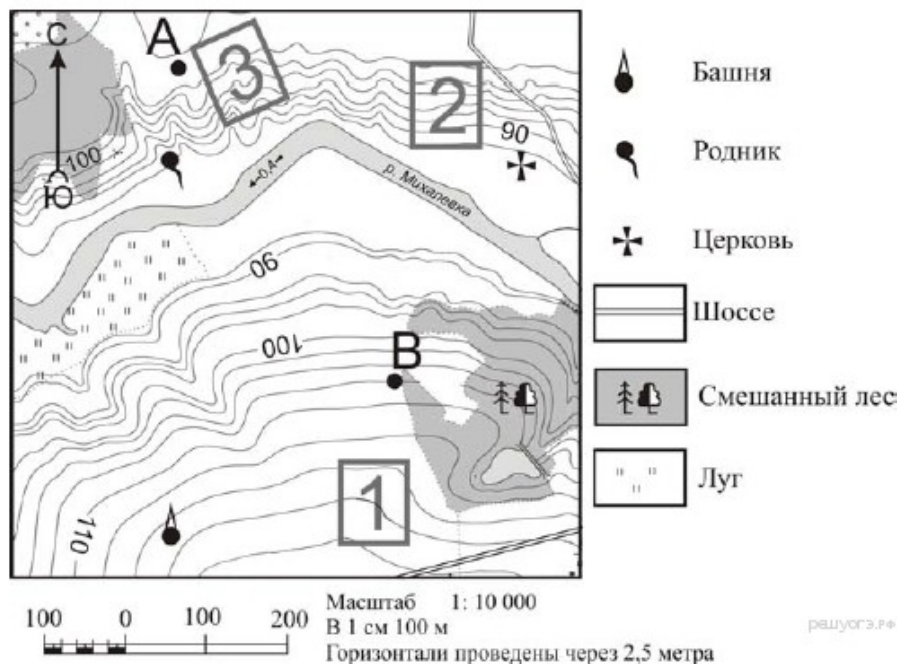
15. Какие ДВЕ особенности природно-ресурсной базы и хозяйства города Кемерово обусловили его выбор для размещения здесь производства азотных удобрений?

16. Картами какого экономического района нужно воспользоваться для того, чтобы определить местоположение города Кемерово?

а) Уральского б) Восточно-Сибирского в) Западно-Сибирского г) Поволжского

17. Определите, у какой республики в составе РФ столица имеет географические координаты  $52^\circ$  с.ш. и  $108^\circ$  в.д

18. Определите по карте расстояние на местности по прямой от родника до церкви. Измерение проводите между центрами условных знаков. Полученный результат округлите до десятков метров.



19. Определите по карте, в каком направлении от водонапорной башни находится родник.

20. Установите соответствие

1) резкое снижение численности в стране а) урбанизация

2) выезд из страны б) технополис

3) рост городов, городского населения и городского образа жизни в) депопуляция

4) соединение научных центров с наукоемкими предприятиями промышленности г) эмиграция

21. Определите регион России по его краткому описанию.

Особенностью ЭГП этой области является наличие выхода к государственной границе Российской Федерации с тремя европейскими странами. Более трети территории области занимают леса, другой особенностью природы является обилие озёр. Полезными ископаемыми область небогата: имеются залежи торфа и строительных материалов. Основные отрасли промышленности — машиностроение, деревообрабатывающая, лёгкая и пищевая промышленность. В сельском хозяйстве преобладает молочное животноводство; растениеводство специализируется на производстве кормовых культур.

22. Определите экономический район по характеристике:

На востоке района находятся месторождения угля, нефти и газа, имеются крупные запасы лесных ресурсов; на юге района расположена область, которая славится производством масла и кружева, на северо-западе района находится незамерзающий порт.

## Вариант 2

1. Самая южная точка территории России расположена на границе с  
а) Абхазией б) Южной Осетией в) Азербайджаном г) Ираном
2. С какой из перечисленных групп стран Россия имеет сухопутную границу?  
а) Армения и Норвегия б) Грузия и Казахстан в) Турция и Иран г) Туркмения и Украина
3. Какой из регионов России имеет наибольшую среднюю плотность населения?  
а) А б) Б в) В г) Г



4. МЧС России ежегодно готовит прогнозы сейсмической активности в сейсмоопасных районах страны. Для жителей какого из районов Европейской части России такие прогнозы необходимы?  
а) Европейский Север б) Центральная Россия в) Северо-Запад г) Европейский Юг
5. Расположите перечисленные ниже города в порядке увеличения в них численности населения.  
а) Новосибирск б) Норильск в) Биробиджан



6. Большинство верующих каких из перечисленных народов исповедуют православие?

а) буряты и чукчи б) башкиры и лезгины в) татары и евреи г) чувашаи и осетины

7. В каком из высказываний содержится информация об урбанизации в России?

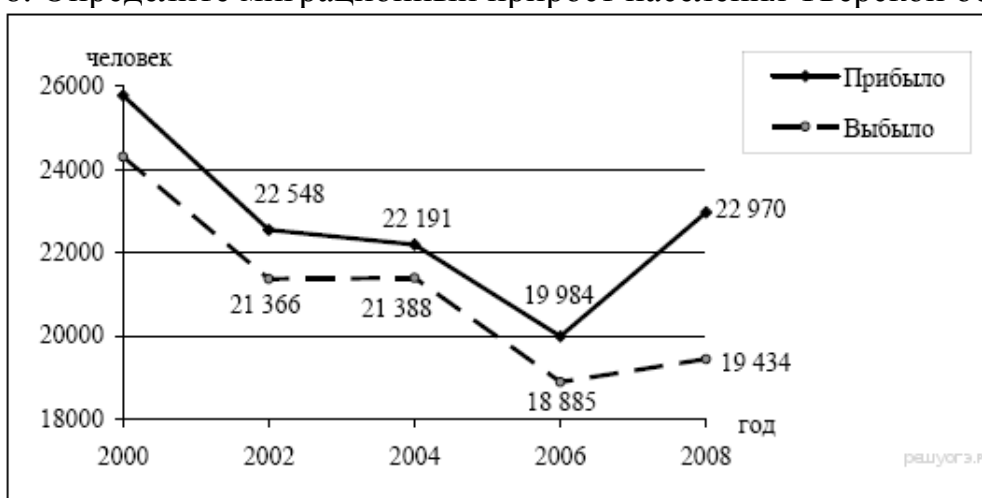
а) численность населения европейской части России с 30-х гг. прошлого века к настоящему времени выросла на 45%

б) большинство городов России расположено в главной полосе расселения

в) численность населения России в последние десять лет постепенно сокращается

г) в настоящее время в городских агломерациях сосредоточено уже более 50% городского населения России

8. Определите миграционный прирост населения Тверской области в 2008 г.



9. К традиционным занятиям какого из народов России относится пастбищное животноводство (овцеводство, коневодство и верблюдоводство)?

а) карелы б) марийцы в) коми г) калмыки

10. Какие полезные ископаемые преобладают в Западной Сибири:

а) нефть и газ б) графиты и асбест в) апатиты и фосфориты г) железные и медные руды

11. Примером рационального природопользования является

а) строительство ГЭС на равнинных реках б) осушение болот в верховьях малых рек

в) рекультивация земель в районах добычи угля г) распашка земель вдоль склонов

12. Какой из перечисленных городов России является крупным центром автомобилестроения?

а) Архангельск б) Тамбов в) Череповец г) Нижний Новгород

13. Туристические фирмы разных регионов России разработали слоганы для привлечения туристов в свои регионы. Установите соответствие между слоганом и регионом.

РЕГИОН

- А) Добро пожаловать в «Янтарный край», самый западный регион России!  
 Б) Здесь можно любоваться горными ландшафтами: сверкающими голубизной ледниками, зеленеющими альпийскими лугами.

- 1) Кабардино-Балкарская Республика
- 2) Калининградская область
- 3) Архангельская область
- 4) Чувашская Республика

14. Расположите регионы России в той последовательности, в которой их жители встречают Новый год.

- а) Республика Адыгея б) Свердловская область в) Магаданская область

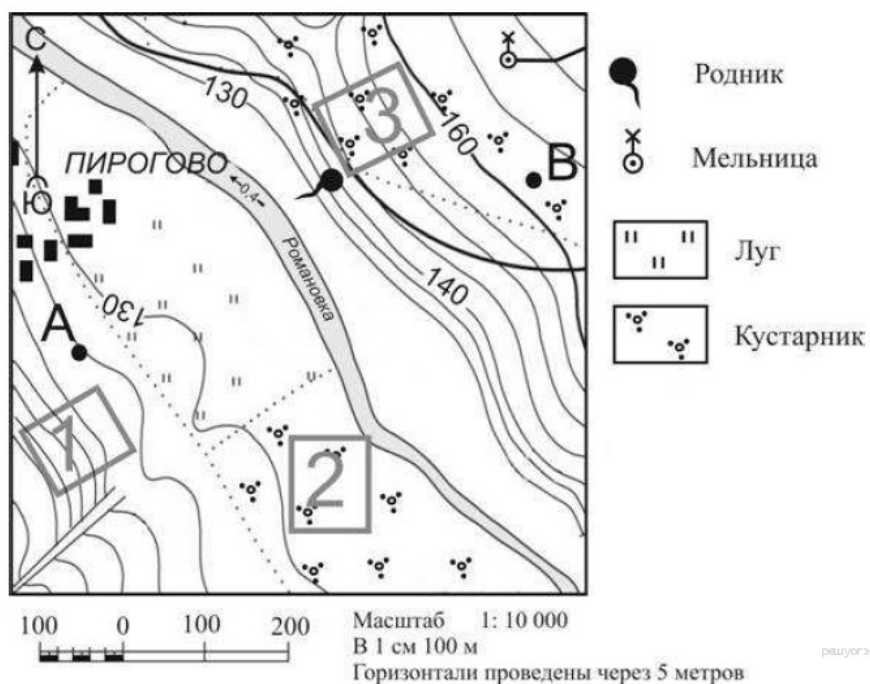
15. Какие ДВЕ особенности Волгоградской области обусловили выбор г. Волгограде строительство алюминиевого завода?

16. Картами какого экономического района нужно воспользоваться для того, чтобы определить местоположение Волгоградской области?

- А) Уральского б) Европейского Юга в) Центрально-Черноземного г) Поволжского

17. Определите, какой город имеет географические координаты 52° с.ш. и 46° в.д.

18. Определите по карте расстояние на местности по прямой от точки А до мельницы. Измерение проводите между точкой и центром условного знака. Полученный результат округлите до десятков метров.



19. Определите по карте, в каком направлении от родника находится мельница.

20. Установите соответствие

- 1) вывоз товаров и услуг а) отрасль производства
- 2) въезд в страну б) специализация
- 3) совокупность предприятий, выпускающих однородную продукцию в) иммиграция
- 4) выпуск предприятием какого - либо продукта, отдельных частей г) экспорт

21. Определите регион России по его краткому описанию.

Большая часть территории этой области находится в зоне тайги.

Особенностью её ЭГП является положение на основных транспортных магистралях, соединяющих европейскую часть страны и Западную Сибирь с дальневосточными районами России. Основу хозяйства составляют несколько крупных ГЭС, рядом с которыми построены крупные алюминиевые комбинаты и лесопромышленные комплексы.

22. Определите экономический район по характеристике:

Этот экономический район самый маленький по площади. Важнейшей отраслью специализации является машиностроение. Крупнейший город района - морской порт.

## Демоверсия годовой контрольной работы по географии 10 класс

### Критерии оценок:

За каждый правильный ответ – 1 балл ( тест – 26 баллов, по 2 балла за ответы в Блоке С).

«5» - 28 – 30 баллов

«4» - 18 – 27 баллов

«3» - 11 -17 баллов

«2» - 10 и менее баллов

## I – ВАРИАНТ

### БЛОК А.

**А1** Укажите примерную численность населения Земного шара: А) 3.5 млрд. человек  
Б) 5.1-6.0 млрд. человек В) 4.5-5 млрд. человек Г) 7 млрд. человек

**А 2 .Большинство стран мира относится:**

А) К экономически развитым странам

Б) К развивающимся странам

В) К странам с переходной экономикой

**А 3. К экономически развитым странам относят:**

А) Германию и США Б) Германию, США и Австралию В) Германию, США, Австралию, Ю.Корею

**А 4. К исчерпаемым возобновляемым ресурсам относятся:**

А) Лесные и рыбные Б) Рыбные и минеральные В) Минеральные и лесные

**А 5. Укажите в предложенном списке страны, численность населения которых превышает 1000 млрд. человек:**

А) Ватикан Б) Пакистан В) Индия Г) Германия

**А 6. Главной причиной уменьшения сельскохозяйственных угодий в мире является:**

А) Эрозия почв Б) Заболачивание, засоление В) Опустынивание

**А 7.Второй тип воспроизводства характерен для стран:**

А) Индии Б) Германии и Индонезии В) Индии, Индонезии и Аргентины

**А 8. Основным показателем уровня урбанизации является:**

А) Количество крупных городов

Б) Соотношение городского и сельского населения

В) Наличие городских агломераций

**А 9. Главной предпосылкой формирования мирового хозяйства явилось:**

А) Формирование мирового рынка

Б) Развитие крупной индустрии

В) Развитие транспорта

**А 10. Постиндустриальная структура хозяйства характеризуется ведущей ролью:**

А) Производственной сферы Б) Непроизводственная сфера

**А 11. В Эпоху НТР среди отраслей промышленности наиболее высокими темпами развиваются:**

А) Машиностроение и чёрная металлургия

Б) Чёрная металлургия и химия полимеров

В) Химия полимеров и машиностроение

**А 12.Новыми факторами размещения производства в эпоху НТР стали:**

А) Фактор наукоёмкости

Б) Фактор наукоёмкости и экологический

В) Фактор наукоёмкости, экологический и природоресурсный

**А 13. Укажите верные утверждения:**

- А) В восточном полушарии сосредоточено больше населения, чем в западном;
- Б) В северном полушарии население меньше, чем в южном;
- В) Большинство жителей Земли расселено на высоте до 2000 м над уровнем моря;
- Г) Средняя плотность населения на Земле - около 20 человек на 1 км<sup>2</sup>.

**А 14. Укажите верные утверждения:**

- А) В развивающихся странах дети составляют 40-45% населения;
- Б) В развивающихся странах доля трудоспособного населения составляет 70-80%;
- В) В развивающихся странах доля детей в 4-5 раз выше доли пожилых людей;
- Г) В развитых странах доля пожилых людей выше средней.

**БЛОК В.**

**В 1. УСТАНОВИТЕ СООТВЕТСТВИЕ:**

*Тип развивающихся стран Страна*

- 1. Экспортёры нефти А) Египет, Бразилия, Нигерия
- 2. Новые индустриальные Б) Кувейт, Катар, Бруней
- В) Республика Корея, Сингапур

**В2. УСТАНОВИТЕ СООТВЕТСТВИЕ:**

*Официальный язык Страна*

- 1) английский; А) Венесуэла
- 2) португальский; Б) Мали
- 3) испанский; В) Лаос
- 4) французский Г) Мозамбик
- Д) Нидерланды

**В 3. ДОПОЛНИТЕ:**

Соотношение между величиной запасов природных ресурсов и размерами их использования называется.....

**В 4. Расположите земли по мере уменьшения их доли в площадях мирового земельного фонда:**

- А) Леса и кустарники
- Б) Обрабатываемые земли ( пашни, сады, плантации)
- В) Луга и пастбища

**БЛОК С.**

- 1. С течением времени и развития производительных сил прямая зависимость человека от природы уменьшилась. Настанет ли такое время, когда человек не будет зависеть от природной среды?
- 2. В какой из стран мира самое большое абсолютное число горожан?

## II – ВАРИАНТ

**БЛОК А.**

**А1. Укажите страну, в которой доля пожилых людей выше, чем доля детей:**

- А) Кения Б) Германия В) Кувейт Г) Индия.

**А2. Укажите регион, в котором наиболее высока доля людей в трудоспособном возрасте (от 15 до 59 лет):**

- А) Зарубежная Азия; Г) Латинская Америка;
- Б) Зарубежная Европа; Д) Северная Америка;
- В) СНГ; Е) Австралия и Океания.

**А 3. Политическая карта мира :**

- А) Окончательно сформирована Б) Продолжает формироваться

**А 4. К экономически развитым странам относят:**

А) США и Японию Б) США, Тунис, Канаду В) США, Японию, ЮАР, Нидерланды

**А 5. Главной причиной обострения водной проблемы человечества является:**

А) Неравномерное распределение водных ресурсов по территории планеты

Б) Рост потребления при неизменённом объёме ресурсов

В) Загрязнение вод

**А 6. Главный путь решения водной проблемы человечества – это...**

А) Уменьшение водоёмкости производственных процессов

Б) Транспортировка айсбергов из Антарктиды

В) опреснение морской воды

**А 7. Главной причиной роста численности населения является:**

А) Высокая рождаемость

Б) Низкая смертность

В) Превышение рождаемости над смертностью

**А 8. Наиболее высокая плотность населения наблюдается:**

А) В Западной Азии и Северной Африке

Б) В Западной Европе и Юго – Восточной Азии

В) В Западной Африке и Центральной Австралии

**А 9. Основными предпосылками формирования мирового хозяйства были:**

А) Крупная машинная индустрия

Б) Крупная машинная индустрия и развитие транспорта

В) Крупная машинная индустрия, развитие транспорта и образование мирового рынка

**А 10. В наши дни географическая модель мирового хозяйства имеет характер:**

А) Полицентрический Б) Моноцентрический

**А 11. НТР влияет на структуру хозяйства:**

А) Отраслевую Б) Территориальную В) Отраслевую и территориальную

**А 21. Роль транспортного фактора и фактора трудовых ресурсов в размещении производства в эпоху НТР:**

А) Увеличилась Б) Осталась неизменной В) Уменьшилась

**А 13. Укажите верные утверждения:**

А) Соотношение мужчин и женщин в мире определяется значительным перевесом численности женщин над численностью мужчин в Индии и Китае;

Б) В целом по миру численность женщин значительно больше, чем численность мужчин;

В) В развитых странах, как правило, численно преобладают женщины;

Г) Мальчиков рождается больше, чем девочек, но к 15-летнему возрасту соотношение полов выравнивается, а в старших возрастах обычно преобладают женщины.

**А 14. Укажите верные утверждения:**

А) Из всех государств мира (не считая карликовых) самую высокую плотность населения имеет Япония;

Б) Около половины обитателей суши имеет плотность населения менее четверти территории суши;

В) Незаселенные людьми области занимают около четверти территории суши;

Г) На земном шаре есть районы, где плотность населения превышает 1000 человек на 1 км<sup>2</sup>

**БЛОК В.**

**В 1. УСТАНОВИТЕ СООТВЕТСТВИЕ:**

*Страны Структура хозяйства*

1. Япония А) Аграрная
2. Россия Б) Индустриальная
3. Эфиопия В) Постиндустриальная

**В 2. УСТАНОВИТЕ СООТВЕТСТВИЕ:**

**В 3. ДОПОЛНИТЕ:**

Совокупность национальных хозяйств мира, объединённых внешними экономическими связями, называется....

**В 3.** Распределите страны, по мере увеличения числа занятых в непроизводственной сфере:

А) Япония Б) США В) Россия

**БЛОК С.**

1. Как изменилась роль и значение отдельных видов энергоресурсов? Почему в 60 – 80–е годы быстро выросла роль нефти и газа? Почему в настоящее время снова, как и в начале века, начинает возрастать роль угля?
2. По поголовью крупного рогатого скота на 1-ом месте в мире находится Индия. Однако страна не выделяется объёмами производства молока и мяса. Почему?

**Критерии оценок:**

За каждый правильный ответ – 1 балл ( тест – 26 баллов, по 2 балла за ответы в Блоке С).

«5» - 28 – 30 баллов

«4» - 18 – 27 баллов

«3» - 11 -17 баллов

«2» - 10 и менее баллов

## **Демоверсия годовая контрольной работы по географии 11 класс**

Задания выполняются без использования атласа.

Время выполнения заданий – 45 минут.

За правильный ответ на задания:

Часть А – 1 балл

Часть В – 1 балл

Часть С – 2 балла

Если ученик правильно отвечает на 50-70% вопросов, то получает оценку «3»,

70-90% правильных ответов - «4»,

90-100% правильных ответов - «5».

### **1 Вариант**

**A1. Какое европейское государство является самым большим по площади?**

1) Испания 2) Украина 3) Франция 4) ФРГ

**A2. Выберите крупнейший европейский морской порт:**

1) Гамбург 2) Лондон 3) Марсель 4) Роттердам

**A3. Преобладание растениеводства в сельском хозяйстве характерно для стран:**

1) Северной Европы 2) Восточной Европы 3) Южной Европы 4) Западной Европы

**A4. Выбери страны с монархической формой правления:**

1) Испания 2) Бельгия 3) Румыния 4) Монако 5) Италия

**A5. Какая страна не относится к региону Восточной Европы?**

1) Польша, 2) Болгария; 3) Украина; 4) Эстония; 5) Австрия.

**A6. Какое из указанных государств является абсолютной монархией?**

1) Индия 2) Бруней 3) ОАЭ 4) Камбоджа 5) Саудовская Аравия

**A7. Австралия занимает первое место в мире по производству**

1). Шерсти 2). Шелка 3). льна 4). Хлопка

**A8. Новыми индустриальными странами являются:**

1) Китай, Монголия, Таиланд; 2) Мексика, ЮАР, Индия;  
3) Республика Корея, Сингапур, Тайвань; 4) Египет, Бруней, Вьетнам.

**A9. Чайные плантации типичны для:**

1) Монголии, Сингапура 2) Индии, Китая 3) Индонезии, Малайзии

**A10. Мировой лидер по количеству больших городов:**

1) Индонезия 2) Индия 3) Китай 4) Япония

**B1. Установите соответствие:**

Экспорт сырья и топлива

страна

1. нефть, природный газ

А. Замбия

2. цитрусовые, маслины

Б. Австралия

3. медь

В. Венесуэла

4. уголь

Г. Испания

**B2. Установите соответствие между страной и ее столицей**



- |                     |            |
|---------------------|------------|
| 1.Саудовская Аравия | А) Дакка   |
| 2.Ливан             | Б) Эр-Рияд |
| 3.Бангладеш         | В) Дамаск  |
|                     | Г) Бейрут  |

**В3. Установите соответствие между отраслями хозяйства и главными факторами их размещения:**

- |                      |                                       |
|----------------------|---------------------------------------|
| А. нефтехимическая   | 1. Энергоемкости                      |
| Б. электроника       | 2. Обеспеченности трудовыми ресурсами |
| В. Текстильная       | 3. Приближенности к морским портам    |
| Г. Выплавка алюминия | 4. Научеёмкости.                      |

**Определите страну по ее краткому описанию:**

**С1.2/5** территории страны находится ниже уровня моря и вся страна пересечена каналами. Половина грузов в стране перевозится во внутренним водным путям. Здесь множество ветряных мельниц. Крупный экспортер сыра и масла. Страна тюльпанов.

**С2.** Один из крупнейших производителей машиностроения, химической и легкой промышленности, парфюмерии, одежды, но, прежде всего, бесспорная чемпионка мирового туризма.

**С3.** Назовите страну Юго-Восточной Азии, самое большое островное государство мира, где больше всего мусульман и которая дает более половины мирового сбора натурального каучука

Годовая контрольная работа по географии 11 класс  
2 вариант

**А1. Какое европейское государство самое многонаселенное?**

1) Великобритания 2) ФРГ 3) Франция 4) Испания

**А2. В какой из перечисленных стран не выращивают виноград?**

1) Болгария 2) Италия 3) Испания 4) Латвия

**А3. Странами-лидерами международного туризма являются:**

1) Испания, Франция, Италия 3) Греция, Португалия, Франция  
2) Германия, Испания, Польша 4) Италия, Чехия, Болгария

**А4. Какая страна не принадлежит к региону Северная Европа?**

1) Великобритания; 2) Исландия; 3) Швеция; 4) Дания; 5) Финляндия.

**А5. Установите соответствие между страной и типом электростанций:**

1). Норвегия; 2). ФРГ; 3). Франция; 4). Исландия.  
а) импортируют газ для использования на ТЭС; б) преобладают ГЭС;  
в) преобладают геотермальные станции; г) 2/3 электроэнергии получают на АЭС.

**А6 .Большинство монархий зарубежной Азии находятся в:**

1) Центральной и Восточной Азии 2) Южной Азии  
3) Юго-Восточной Азии 4) Юго-Западной Азии

**А7. Выберите основные статьи экспорта Австралии**

1).бокситы и уран 2).нефть и газ 3).шерсть и мясо 4).вино и фрукты

**А8. Что характерно для населения Японии:**

- 1) преобладание (более 95%) японцев в национальном составе 2) естественная убыль населения
- 3) занятость большей части населения в промышленности 4) сосредоточение населения на западном побережье страны

**A9 Новые индустриальные страны часто называют:**

- 1). «Азиатскими львами»; 2). «Европейскими львами»;
- 3). «Азиатскими тиграми»; 4). Европейским тиграми

**A10. Азия – родина:**

- 1) Ислама 2) Буддизма 3) Индуизма 4) Всех мировых религий

**B1. Установите соответствие:**

Экспорт с-х. сырья

страна

1. чай
2. шерсть
3. какао
4. хлопок

- А. Индия  
Б. Кот-д-Ивуар  
В. Шри-Ланка  
Г. Австралия

**B2. Установите соответствие между страной и ее столицей**

1. Вьетнам            А) Стокгольм Б) Коломбо В) Ханой Г) Претория
2. Швеция
3. ЮАР

**B3. Установите соответствие между странами-лидерами и продукцией:**

- |                      |                   |
|----------------------|-------------------|
| А. Китай             | 1. Электроэнергия |
| Б. Саудовская Аравия | 2. Судостроение   |
| В. США               | 3. Нефть          |
| Г. Япония            | 4. Сталь          |

**Определите страну по ее краткому описанию:**

**C1.** Мягкий климат, горный воздух, озера с прозрачной водой и живописными берегами привлекают сюда массу туристов и спортсменов со всего мира. Страна – банкир. Станки, часы, медикаменты, витамины, шоколад, детское питание и лучшие сорта сыра – вот чем славится это государство.

**C2.** Государство с федеративным устройством. В прошлом веке эта страна ассоциировалась у многих только с военными действиями. Первая мировая, вторая мировая война, создание оружия, танков. родина известных композиторов, поэтов, писателей, художников.

**C3.** Назовите государство Азии, самая многонациональная страна мира, родина сельскохозяйственных культур (рис, хлопчатник, сахарный тростник,) родина шахмат. Страна занимающее 1 место по поголовью крупного рогатого скота, но одно из последних мест по потреблению мяса?

