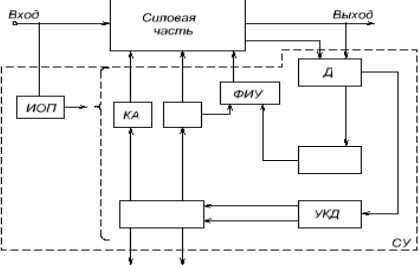
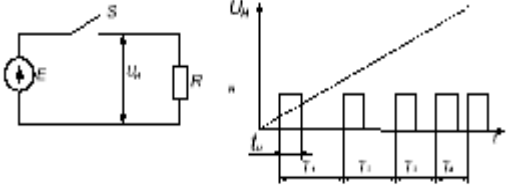
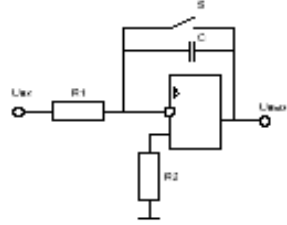


Тестовая работа № 5 ЭПТ (СЭА)
(Раздел 3 Системы управления силовыми электронными аппаратами)

1.	Расшифровать условные обозначения блока структурной схемы системы управления электронного аппарата - РЕГ	
2.	Дополнить наименования блоков обобщённой структурной схемы системы управления электронного аппарата	 <p>Рис. 9.1. Обобщённая структурная схема системы управления электронного аппарата</p>
3.	Какая система управления представлена на рисунке? а. АИМ б. ШИМ в. ЧИМ г. Трёхпозиционная модуляция.	
4.	Какой генератор представлен на рисунке? а. Одновибратор. б. Генератор синусоидальных колебаний. в. Генератор пилообразного напряжения г. Распределитель импульсов.	
5.	Какая схема ФИУ представлена на рисунке? а. ФИУ биполярного транзистора на транзисторном усилителе. б. ФИУ полевого транзистора с двухтактным ключом на МДП транзисторах. в. ФИУ обычного тиристора. г. ФИУ запираемого тиристора.	