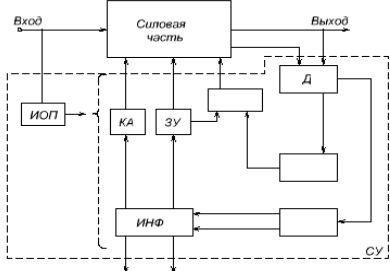
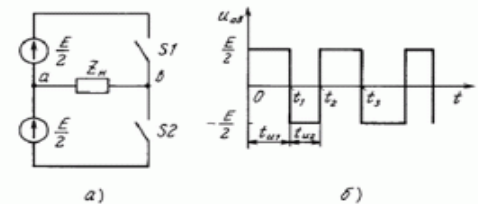
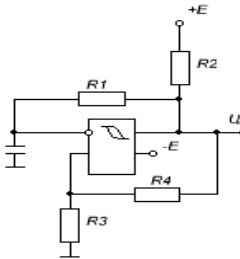


Тестовая работа № 5 ЭПТ (СЭА)
(Раздел 3 Системы управления силовыми электронными аппаратами)

1.	Расшифровать условные обозначения блока структурной схемы системы управления электронного аппарата - ИНФ	
2.	Дополнить наименования блоков обобщённой структурной схемы системы управления электронного аппарата	 <p>Рис. 9.1 Обобщённая структурная схема системы управления электронного аппарата</p>
3.	Какая система управления представлена на рисунке? а. АИМ б. Релейное регулирование. в. Двухпозиционная модуляция. г. Трёхпозиционная модуляция.	 <p>а) б)</p>
4.	Какой генератор представлен на рисунке? а. Генератор прямоугольных импульсов на интегральном компараторе. б. Одновибратор. в. Генератор пилообразного напряжения г. Распределитель импульсов.	
5.	Какая схема ФИУ представлена на рисунке? а. ФИУ биполярного транзистора на транзисторном усилителе. б. ФИУ биполярного транзистора на парных транзисторах. в. ФИУ обычного тиристора. г. ФИУ запираемого тиристора.	