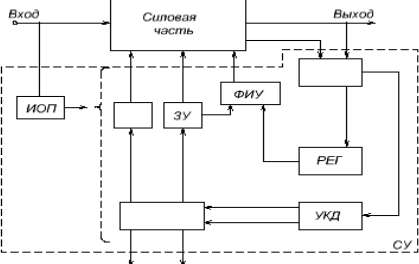
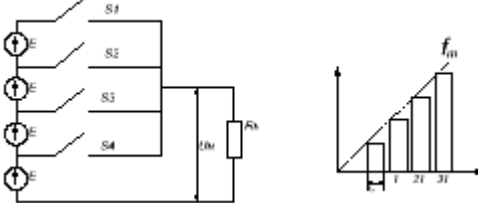
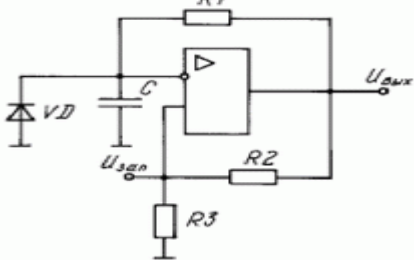


Тестовая работа № 5 ЭПТ (СЭА)  
(Раздел 3 Системы управления силовыми электронными аппаратами)

1.	Расшифровать условные обозначения блока структурной схемы системы управления электронного аппарата - УКД	
2.	Дополнить наименования блоков обобщённой структурной схемы системы управления электронного аппарата	 <p>Рис. 9.1. Обобщённая структурная схема системы управления электронного аппарата</p>
3.	<p>Какая система управления представлена на рисунке?</p> <p>а. АИМ б. ШИМ в. Двухпозиционная модуляция. г. Трёхпозиционная модуляция.</p>	
4.	<p>Какой генератор представлен на рисунке?</p> <p>а. Генератор прямоугольных импульсов на интегральном компараторе. б. Одновибратор. в. Генератор синусоидальных колебаний. г. Распределитель импульсов.</p>	
5.	<p>Какая схема ФИУ представлена на рисунке?</p> <p>а. ФИУ полевого транзистора на усилителе из парных транзисторов. б. ФИУ полевого транзистора с двухтактным ключом на МДП транзисторах. в. ФИУ обычного тиристора. г. ФИУ запираемого тиристора.</p>	