

Оценочный материал по окружающему миру 2-4 классы

Входная контрольная работа по окружающему миру 2 класс

Цель: проверить знания и умения учащихся на начало года.

Критерии оценок.

За каждый правильный ответ -1 балл.

На вопросы:

1. 1б
2. 2б
3. 1б
4. 3б
5. 1б
6. 1б
7. 1б
8. 3б
9. 1б
- 10.2б

«5» - 16-15 баллов

«4» - 14- 12 баллов

«3» - 11-8 баллов

«2» - менее 8 баллов

Ключ

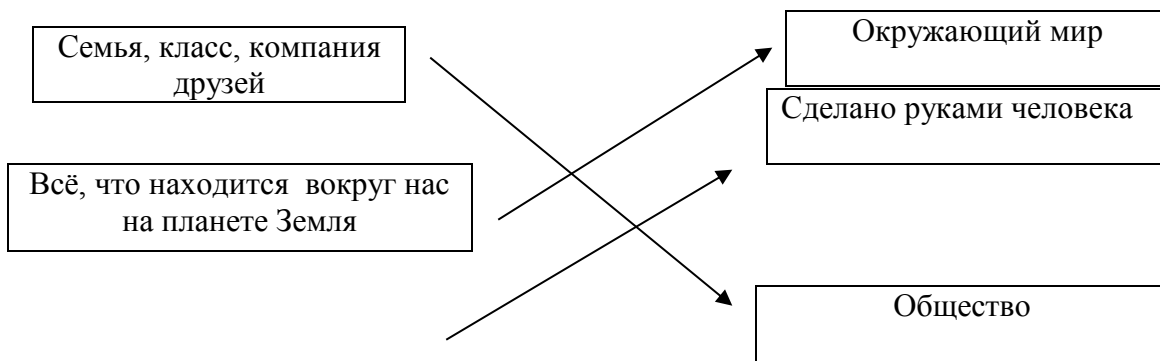
Вариант 1.

1. Живая и неживая

2. Камень, цветок, стол, берёза.

3. Птицы - это животные, а травы - *растения*

4.



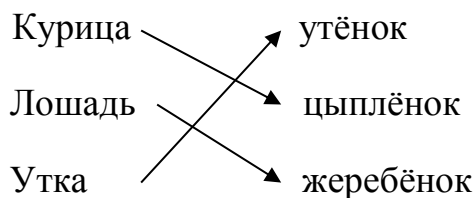
Машины, здания, посуда

5. Дни недели: понедельник, вторник, среда, четверг, пятница, суббота, воскресенье

6. Перелётные

7. листопад

8.



9. Россия

10.



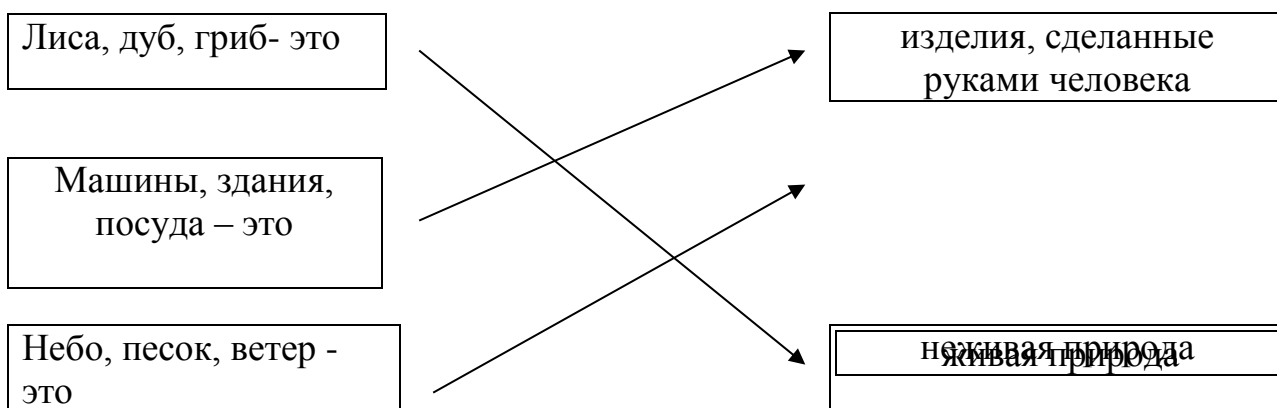
2 вариант.

1. Солнце, камни, песок, дождь, ветер – неживая природа

2. Солнце, гриб, гора, щука.

3. Деревья – это растения, а рыбы – животные

4.

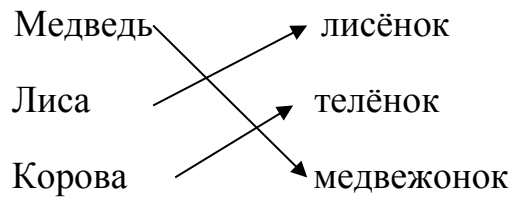


5. 7 дней

6. сентябрь

7. осень

8.



9. Россия

10.



Ф.И. _____

1 вариант.

1. Какая бывает природа? Отметь.

- Живая и неживая
- Живая и мёртвая

2 Подчеркни , что относится к живой природе.

Камень, цветок, стол, берёза.

3 Закончи высказывания:

Птицы - это животные, а травы - _____

4 Соедини → части предложения

Семья, класс, компания
друзей

Окружающий мир

Всё, что находится вокруг
нас на планете Земля

Сделано руками
человека

Машины, здания, посуда

Общество

5 Отметь правильный ответ.

- Дни недели: понедельник , вторник, среда, суббота, четверг, пятница, воскресенье
- Дни недели: понедельник , вторник, среда, четверг, пятница, суббота, воскресенье

6 Как называются птицы, которые улетают в тёплые края?

- Перелётные.
- Оседлые

7 Это явление природы бывает осенью.

- листопад
- ледоход

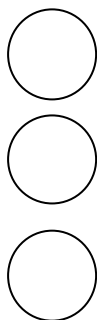
8 Соедини →

Курица	утёнок
Лошадь	цыплёнок
Утка	жеребёнок

9 Напиши название нашей

страны: _____

10 Закрась цвета светофора.



Ф.И. _____

2 вариант.

1.Отметь верное высказывание:

- Солнце, камни, песок, дождь, ветер – неживая природа
- Растения, животные, грибы, люди, машины – живая природа.

неживая природа

2.Подчеркни, что относится к неживой природе.

Солнце, гриб, гора, щука.

3.Закончи высказывания:

Деревья – это растения, а рыбы - _____

4. Соедини → части предложения

Лиса, дуб, гриб- это

изделия, сделанные
руками человека

Машины, здания,
посуда – это

живая природа

Небо, песок, ветер -
это

5. . Отметь правильный ответ. Сколько дней в неделе?

- 6 дней
- 31 или 30 дней
- 7 дней

6. Отметь первый месяц осени.

- октябрь
- ноябрь
- сентябрь

7. День заметно убывает. Это...

- осень
- весна

8. Соедини



Медведь

лисёнок

Лиса

телёнок

Корова

медвежонок

9. Напиши название нашей страны: _____

10. Закрась флаг России.

Итоговая контрольная работа по окружающему миру 2 класс

I вариант

Базовый уровень

1. Отметь, что относится к живой природе?

книга воробей машина

2. На флаге России три полосы:

красная и две синие белая, синяя и красная белая, голубая и зелёная

3. Для роста растению нужно:

тепло, воздух, вода

тепло, воздух, свет, вода, почва

тепло, почва, свет

4. Растения, у которых один одревесневший стебель (ствол), - это

кустарник дерево трава

5. Животные, тело которых покрыто перьями, - это

звери рыбы птицы

например: _____

6. Что такое глобус?

модель Солнца модель Земли модель шара

7. Выбери название основной реки твоего края:

Обь Волга Дон

8. Сколько планет вращается вокруг Солнца? 4 6 8

9. Как называется основной Закон нашей страны?

Библией книгой Конституцией

10. Запиши цифрами порядок следования дней недели:

среда; воскресенье; четверг; вторник; понедельник; суббота, пятница.

Повышенный уровень

**11. Напиши зимние
месяцы:** _____

Напиши дату своего дня рождения _____

12. Зачеркни лишнее: Африка, Англия, Антарктида, Австралия.

На каком материке мы живем? _____

13. Перечисли океаны:

14. Президент

России _____

15. Подчеркни то, что относится к внешнему строению человека

Голова, головной мозг, шея, туловище, лёгкие, сердце, руки, желудок, кишечник, ноги

16. Заполни пропуски

Если встать лицом к северу, сзади будет - _____, слева - _____, справа - _____

II вариант

Базовая уровень

1. Отметь, что относится к неживой природе?

пчела морж солнце

2. На флаге России:

две полосы нет полос три полосы

3. Вода может находиться в:

трёх состояниях двух состояниях пяти состояниях

4. Растения, у которых несколько одревесневших стеблей (стволов), - это

кустарник дерево трава

5. Животные, тело которых покрыто шерстью, - это

рыбы звери птицы

например: _____

6. Как называется наука о небесных телах?

история география астрономия

7. Выбери название основной реки твоего края:

- Ока Дон Обь

8. В какой строчке указаны только лиственные растения:

- саксаул, пальма, кактус
 ель, сосна, лиственница
 берёза, рябина, осина

9. На каком материке располагается наша страна: Африка Евразия Австралия

10. Укажи группу насекомых луга:

- жуки-пловцы, муравьи
 жуки-короеды, майские жуки
 шмели, бабочки

Повышенный уровень

11. Сколько ног у насекомых? 4 ноги 6 ног 8 ног

**12. Напиши летние
месяцы:** _____

Напиши дату своего дня рождения

13. Запиши цифрами порядок следования цветов радуги.

голубой; фиолетовый; красный; синий; зелёный; жёлтый, оранжевый.

**14. Президент
России** _____

15. Подчеркни то, что относится к внутреннему строению человека

Голова, головной мозг, шея, туловище, лёгкие, сердце, руки, желудок, кишечник, ноги.

16. Заполни пропуски

Если встать лицом к югу, сзади будет - _____, слева - _____, справа - _____

ОТВЕТЫ И КРИТЕРИИ ОЦЕНИВАНИЯ

Вариант 1

Задание	Ответ	Колич. баллов
<i>Базовый уровень</i>		
1. Отметь, что относится к живой природе?	Правильный ответ (<i>воробей</i>)	1
2. На флаге России три полосы:	Правильный ответ (<i>белая, синяя и красная</i>)	1
3. Для роста растению нужно:	Правильный ответ (<i>тепло, воздух, свет, вода, почва</i>)	1
4. Растения, у которых один одревесневший стебель (ствол), - это	Правильный ответ (<i>дерево</i>)	1
5. Животные, тело которых покрыто перьями, - это	Правильный ответ (<i>Птицы (примеры)</i>)	2
	Правильный ответ, без примеров	1
6. Что такое глобус?	Правильный ответ (<i>модель Земли</i>)	1
7. Выбери название основной реки твоего края:	Правильный ответ (<i>Обь</i>)	1
8. Сколько планет вращается вокруг Солнца?	Правильный ответ (<i>8</i>)	1
9. Как называется основной Закон нашей страны?	Правильный ответ (<i>Конституцией</i>)	1
10. Запиши цифрами порядок следования дней недели:	Правильный ответ (<i>3,7,4,2,1,6,5</i>)	1
<i>Повышенный уровень</i>		
11. Напиши зимние месяцы	Правильный	2

	ответ (<i>Декабрь, январь, февраль и дата рождения</i>)	1
12. Зачеркни лишнее	Правильный ответ (<i>Англия (Евразия)</i>)	2
	Правильный ответ, без дополнения	1
13. Перечисли океаны:	Правильный ответ (<i>Северный Ледовитый, Тихий, Атлантический, Индийский</i>)	1
14. Президент России	Правильный ответ (<i>Владимир Владимирович Путин</i>)	1
15. Подчеркни то, что относится к внешнему строению человека	Правильный ответ (<i>Голова, шея, туловище, руки, ноги</i>)	1
16. Заполни пропуски	Правильный ответ (<i>Юг, запад, восток</i>)	1

Базовый уровень («3») минимум 10 баллов

Повышенный уровень:

Оценка «5» - 8 баллов

Оценка «4» - 6 баллов

ОТВЕТЫ И КРИТЕРИИ ОЦЕНИВАНИЯ

Вариант 2

Задание	Ответ	Колич. баллов
<i>Базовый уровень</i>		
1. Отметь, что относится к	Правильный	1

неживой природе?	ответ (<i>солнце</i>)	
2. На флаге России	Правильный ответ (3 полосы)	1
3. Вода может находиться в:	Правильный ответ (<i>три состояния</i>)	1
4. Растения, у которых несколько одревесневших стеблей (стволов), - это	Правильный ответ (<i>кустарник</i>)	1
5. Животные, тело которых покрыто шерстью, - это	Правильный ответ (<i>звери (примеры)</i>)	2
	Правильный ответ, без примеров	1
6 Как называется наука о небесных телах?	Правильный ответ (<i>астрономия</i>)	1
7. Выбери название основной реки твоего края:	Правильный ответ (<i>Обь</i>)	1
8. В какой строчке указаны только лиственные растения:	Правильный ответ (3)	1
9. На каком материке располагается наша страна?	Правильный ответ (<i>Евразия</i>)	1
10. Укажи группу насекомых луга	Правильный ответ (3)	1
Повышенный уровень		
11. Сколько ног у насекомых?	Правильный ответ (6 ног)	1
12. Напиши летние месяцы	Правильный ответ (<i>июнь, июль, август и дата рождения</i>)	2
	Правильный ответ,	1

	без дополнения	
13. Запиши цифрами порядок следования цветов радуги.	Правильный ответ (<i>5,7,1,6,4,3,2</i>)	1
14. Президент России	Правильный ответ (<i>Владимир Владимирович Путин</i>)	1
15. Подчеркни то, что относится к внутреннему строению человека	Правильный ответ (<i>головной мозг, лёгкие, сердце, желудок, кишечник</i>)	1
16. Заполни пропуски	Правильный ответ (<i>север, восток, запад</i>)	1

Базовый уровень («3») минимум 10 баллов

Повышенный уровень:

Оценка «5» - 7 баллов

Оценка «4» - 6 баллов

Входной тест по окружающему миру 3 класс

Цель: проверка усвоения программного материала по изученным темам курса 2 класса по учебнику А. А. Плешакова.

Критерии оценивания:

- «5» - 97-100%
- «4» - 77-96%
- «3» - 50-76%
- «2» - менее 50%

1. Подчеркни названия природных объектов:

Ромашка, линейка, плитка, машина, горы, шкаф, глина, птица, облака, тетрадь, дерево, дом.

2. К неживой природе относятся:

- человек, животные, растения, грибы, микробы;
- Солнце, Земля, воздух, вода, человек и всё то, что сделано его руками;
- Солнце, небо, облака, Земля, камни, вода, дождь, снег.

3. К живой природе относятся:

- человек, животные, растения, грибы, микробы;
- Солнце, Земля, воздух, вода, человек и всё то, что сделано его руками;
- Солнце, небо, облака, Земля, камни, вода, дождь, снег.

4. Живые существа отличаются от предметов неживой природы тем, что:

- они дышат, питаются, растут, приносят потомство, умирают;
- они разговаривают, бегают и прыгают, смеются и плачут, растут, умирают;
- они передвигаются, растут, изменяют окружающую природу, умирают.

5. Животные – это:

- звери, насекомые, змеи, растения, грибы, микробы;
- птицы, звери, рыбы, ящерицы, черепахи, черви;
- птицы, звери, человек, насекомые, растения, грибы.

6. Из-за чего на Земле становится меньше лесов?

- из-за пожаров и стихийных бедствий;
- из-за изменения климата на Земле;
- из-за строительства городов, дорог, возделывания полей.

7. Какой воздух и какая вода необходимы для жизни растений, животных и человека?

- прозрачные;
- бесцветные;
- чистые.

8. От чего загрязняется вода в реках и озёрах?

- от использования воды в быту;
- от использования воды в производстве;
- от слива сточных вод заводов и фабрик, нечистот с ферм.

9. Что люди делают для спасения живой природы?

- создают заповедники, ботанические сады;
- создают бульвары и скверы;
- создают фермы, пасеки и птицефермы.

10. Что такое заповедники?

- заповедники – это участки земли, где вся природа находится под строгой охраной;
- заповедники – это участки земли, где выращивают редкие растения со всего мира;
- заповедники – это участки земли, где обитает большое разнообразие зверей, птиц и насекомых.

11. Подчеркни лишнее в каждом столбике:

дуб	подосиновик	комар
ёжик	опята	крот
земляника	олень	кит
берёза	боровик	кедр

12. К внутреннему миру человека относятся:

- мечты, рост, возраст, характер, вес;
- знания, настроение, характер, мысли, мечты;
- руки, глаза, причёска, возраст, настроение.

13. Соедини линиями понятия и соответствующие им определения:

способность думать	воображение
способность хранить информацию	мышление
способность представлять себе то, чего нет	восприятие
способность получать информацию об окружающем	память

14. Любое государство имеет:

- свою территорию, государственные границы, государственный язык, столицу;
- свою территорию, совместное хозяйство, национальные традиции, государственный язык, свою территорию;
- государственные границы, национальные традиции, государственный язык, свою территорию.

15. Подчеркни то, что составляет окружающую среду для сосны:

Воздух, цапля, солнце, почва, кенгуру, лесная мышь, рыбы, чайка, дятел., вода.

16. Соедини линиями действия людей и соответствующие им результаты:

вырубка лесов ради древесины;		загрязнение воздуха;
истребление животных ради меха;		загрязнение водоёмов;
слив сточных вод;		исчезновение некоторых видов животных;
выбросы дыма от заводов и фабрик.		уменьшение количества лесов

17. Сведения о редких растениях и животных занесены:

- в Почётную книгу;
- в Красную книгу

1. Подчеркни названия природных объектов:

Ромашка, линейка, плитка, машина, горы, шкаф, глина, птица, облака, тетрадь, дерево, дом.

2. К неживой природе относятся:

- человек, животные, растения, грибы, микробы;
- Солнце, Земля, воздух, вода, человек и всё то, что сделано его руками;
- **Солнце, небо, облака, Земля, камни, вода, дождь, снег.**

3. К живой природе относятся:

- **человек, животные, растения, грибы, микробы;**
- Солнце, Земля, воздух, вода, человек и всё то, что сделано его руками;
- Солнце, небо, облака, Земля, камни, вода, дождь, снег.

4. Живые существа отличаются от предметов неживой природы тем, что:

- **они дышат, питаются, растут, приносят потомство, умирают;**
- они разговаривают, бегают и прыгают, смеются и плачут, растут, умирают;
- они передвигаются, растут, изменяют окружающую природу, умирают.

5. Животные – это:

- звери, насекомые, змеи, растения, грибы, микробы;
- **птицы, звери, рыбы, ящерицы, черепахи, черви;**
- птицы, звери, человек, насекомые, растения, грибы.

6. Из-за чего на Земле становится меньше лесов?

- из-за пожаров и стихийных бедствий;
- из-за изменения климата на Земле;
- **из-за строительства городов, дорог, возделывания полей.**

7. Какой воздух и какая вода необходимы для жизни растений, животных и человека?

- прозрачные;
- бесцветные;
- **чистые.**

8. От чего загрязняется вода в реках и озёрах?

- от использования воды в быту;
- от использования воды в производстве;
- **от слива сточных вод заводов и фабрик, нечистот с ферм.**

9. Что люди делают для спасения живой природы?

- **создают заповедники, ботанические сады;**
- создают бульвары и скверы;
- создают фермы, пасеки и птицефермы.

10. Что такое заповедники?

- **заповедники – это участки земли, где вся природа находится под строгой охраной;**
- заповедники – это участки земли, где выращивают редкие растения со всего мира;
- заповедники – это участки земли, где обитает большое разнообразие зверей, птиц и насекомых.

11. Подчеркни лишнее в каждом столбике:

дуб	подосиновик	комар
<u>ёжик</u>	опята	крот
земляника	<u>олень</u>	кит
берёза	боровик	<u>кедр</u>

12.К внутреннему миру человека относятся:

- мечты, рост, возраст, характер, вес;
- **знания, настроение, характер, мысли, мечты;**
- руки, глаза, причёска, возраст, настроение.

13.Соедини линиями понятия и соответствующие им определения:

способность думать	воображение
способность хранить информацию	мышление
способность представлять себе то, чего нет	восприятие
способность получать информацию об окружающем	память

14.Любое государство имеет:

- **свою территорию, государственные границы, государственный язык, столицу;**
- свою территорию, совместное хозяйство, национальные традиции, государственный язык, свою территорию;
- государственные границы, национальные традиции, государственный язык, свою территорию.

15.Подчеркни то, что составляет окружающую среду для сосны:

Воздух, цапля, **солнце**, **почва**, кенгуру, **лесная мышь**, рыбы, чайка, **дятел**, **вода**.

16.Соедини линиями действия людей и соответствующие им результаты:

вырубка лесов ради древесины;		загрязнение воздуха;
истребление животных ради меха;		загрязнение водоёмов;
слив сточных вод;		исчезновение некоторых видов животных;
выбросы дыма от заводов и фабрик.		уменьшение количества лесов

17. Сведения о редких растениях и животных занесены:

- в Почётную книгу;
- **в Красную книгу**

Итоговый тест по окружающему миру для 3 класса

Цель: проверка усвоения программного материала по изученным темам курса 3 класса по учебнику А. А. Плешакова.

Критерии оценивания.

Верный ответ на 1-14 задания оценивается по 1 баллу,

15 задание – 3 балла. Всего 17 баллов.

15-17 баллов - «5», 12-14 баллов - «4»

8-11 баллов - «3», 0-7 баллов - «2»

Итоговый тест

1. Как называется наука о животных?

- а) биология б) зоология
- в) ботаника в) экология

2. В каком ряду названы иглокожие?

- а) улитка, слизень, кальмар, осьминог
- б) бабочка, жук, стрекоза, муха, пчела
- в) морская звезда, морской ёж, морской огурец, морская лилия

3. Лягушка прудовая — это:

- а) неживая природа б) растения в) животные
- г) земноводные д) пресмыкающиеся

4. Что приводит тело в движение?

- а) кости б) мышцы в) желудок

5. Какими веществами богаты творог, рыба, мясо, яйца?

- а) белками б) жирами

в) углеводами г) витаминами

6. Источником жиров НЕ является:

а) сливочное масло б) растительное масло

в) яблоко в) сметана

7. В каком ряду перечислены только органы пищеварительной системы?

а) ротовая полость, глотка, лёгкие, желудок, кишечник.

б) пищевод, головной мозг, глаза, сердце, кишечник.

в) ротовая полость, глотка, пищевод, желудок, кишечник.

8. Что вредит здоровью?

а) утренняя зарядка б) игры на свежем воздухе

в) долго смотреть телевизор г) занятия физкультурой.

9. Пешеход должен:

а) ходить по тротуару

б) переходить улицу там, где удобно

в) переходить улицу на зелёный сигнал светофора.

10. С какого возраста разрешено выезжать на велосипеде на дорогу?

а) с 12 лет б) с 14 лет в) с 18 лет.

11. Экологическая безопасность - это:

а) защита от молний, грозы, бури

б) защита от ядовитых растений и опасных животных

в) защита от вредного воздействия загрязнённой окружающей среды.

12. Что дает животноводство людям?

- а) мясо, шерсть, пух, кожу;
- б) фрукты, ягоды, овощи;
- в) хлопок, лен, рис.

13. Из чего складывается бюджет?

- а) из зарплаты и стипендии;
- б) из денег;
- в) из доходов и расходов.

14. Какой бюджет ты считаешь лучшим?

- а) в котором доходы больше расходов;
- б) в котором доходы равны расходам;
- в) в котором доходы меньше расходов.

15. Что такое Бенилюкс?

Входная контрольная работа по окружающему миру 4 класс

Всего: 19 баллов

100%-75%--19-15 баллов- "5"

75%-50%-14-11 баллов- "4"

50%-10-9 баллов- "3"

менее 50 %- менее 9 баллов "2"

Ответы 1 варианта

№ задания	Правильный ответ	Баллы
1.	В- потепление	3 балла
2.	В- осенний	1 балл
3.	Б,Г,Е- ольха, ива, орешник	3 балла
4.	В- открытая местность	1 балл
5.	Бурундук	2 балла
6.	Б	2 балла
7.	Б- воздух	1 балл
8.	Б- б	1 балл

9.	А- в городе	1 балл
10.	Технику, бытовые приборы, мебель, Стройматериалы, обувь, одежду и т.д.	3 балла

ответы II варианта

№ задания	Правильный ответ	Баллы
1.	В- находится в спячке	1 балл
2.	В,Г,Д- клёна, осины, рябины	3 балла
3.	Б,В,Д- рябчики, тетерева, куропатки	3 балла
4.	А- движения Земли вокруг Солнца	2 балл
5.	В- привлечь насекомых для опыления	3 балла
6.	Липа (летом)	1 балл
7.	В-подорожник	1 балл
8.	А-дерево	2 балла
9.	В- насекомые	1 балл
10.	Продукты питания	2 балла

I вариант

1. Из данных изменений, происходящих весной в неживой природе, выбери основное:

- а) голубое небо в) потепление
б) половодье г) оттаивание почвы

2. К неживой природе относятся:

- А. Растения, животные, человек, грибы и микробы
Б. Земля, Солнце, вода, воздух, человек и все, что сделано его руками
В. Небо, облака, дождь, снег, вода, камень, Солнце, Земля.

3. Из чего состоит почва?

- А. Воздуха, воды, перегноя, песка, глины, солей
Б. Воздуха, воды, перегноя, песка, глины, солей, корней растений, животных, обитающих в почве
В. Из микробов, корней растений, различных животных, обитающих в почве

4. Смена дня и ночи зависит от:

- а) движения Земли вокруг Солнца
б) движения Земли вокруг своей оси

5. Пешеход должен:

- А. ходить по тротуару
Б. переходить улицу там, где удобно
В. переходить улицу на зелёный сигнал светофора.

6. Что растения получают из почвы?

- А. Перегной, песок, глину
Б. Остатки животных и растений
В. Воздух, воду, соли

7. Что находится в мыльном пузыре:

- а) мыло б) воздух в) вода

8. Что собирают насекомые- опылители с цветков?

- а) мёд б) нектар в) семена г) плоды

9. Какое полезное ископаемое используется как топливо?

- а) глина б) торф в) известняк г) гранит

10. Что даёт город селу?

II вариант

1. Живые существа отличаются от предметов неживой природы тем, что:

- а. они дышат, питаются, растут, приносят потомство, умирают;
- б. они разговаривают, бегают и прыгают, смеются и плачут, растут, умирают;
- в. они передвигаются, растут, изменяют окружающую природу, умирают.

2. Укажи ошибочное высказывание.

- а. Почва – это питательные вещества, необходимые для роста и развития растений.
- б. Почва – это верхний слой плодородной земли.
- в. Основное свойство почвы – плодородие.

3. Что такое заповедники?

- а. заповедники – это участки земли, где вся природа находится под строгой охраной;
- б. заповедники – это участки земли, где выращивают редкие растения со всего мира;
- в. заповедники – это участки земли, где обитает большое разнообразие зверей, птиц и насекомых.

4. Смена времён года зависит от:

- а) движения Земли вокруг Солнца
- б) движения Земли вокруг своей оси

5. . Какое звено в цепи питания является первым?

- а) растительноядные животные б) хищные животные
- в) насекомоядные животные г) растения

6. На каком материке находится территория России?

- а) Австралия б) Южная Америка в) Евразия г) Африка

7. Что относится к характеристике семьи?

- 1) совместное хозяйство 2) свой язык 3) границы 4) государственные символы

8. С какого возраста разрешено выезжать на велосипеде на дорогу?

- А. с 12 лет Б. с 14 лет В. с 18 лет.

9. Из чего делают бензин?

- а) из торфа б) из нефти в) из железной руды г) из природного газа

10. Что даёт село городу?

Итоговый тест по окружающему миру для 4 класса

1 вариант

- А 1. Выдели объект неживой природы
а) липа б) человек в) обезьяна г) планета Земля
- А 2. Найди отличительные особенности неживой природы
а) растёт б) существует в) стоит г) дышит
- А 3. Сколько материков на планете Земля
а) 5 б) 7 в) 6 г) 4
- А 4. Каковы погодные условия тундры?
а) холодная зима, тёплое лето
б) суровая зима, жаркое лето
в) суровая зима, холодное лето
г) суровая зима, лето не бывает
- А 5. Объясни причину смены дня и ночи.
а) Земля вращается вокруг Солнца.
б) Солнце вращается вокруг Земли.
в) Земля вращается вокруг своей оси.
г) Солнце и Луна сменяют друг друга.
- А 6. В каком созвездии находится Полярная звезда
а) в Большой Медведице.
б) в Малой Медведице.
в) в созвездии Стрельца
г) в Тельце
- А 7. Назови по порядку цвета на Российском флаге
а) красный, белый, синий
б) белый, синий, красный
в) синий, красный, белый
г) зелёный, белый, красный
- В 1. Какое озеро внесено в Список Всемирного наследия
а) Онежское б) Ладожское в) Байкал г) Каспийское
- В 2. Это озеро называют морем
а) Мёртвое б) Каспийское в) Байкал г) Чёрное
- В 3. Выбери лишний объект живой природы
а) аист б) орёл в) летучая мышь г) гагары
- В 4. Всё, что ниже перечислено - степные растения. Найди лишнее
а) ковыль б) ягель в) шалфей г) тюльпан
- В 5. Прочитай предложения и назови природную зону.
Она расположена на юге России. Весна там наступает раньше, чем в зоне лесов. Лето жаркое и засушливое.

а) степь б) пустыня в) Арктическая пустыня г) смешанных лесов

В 6. Какое изобретение не относится к средневековью

а) книгопечатанье б) автомобиль в) механические часы г) очки

В 7. Как расслабить мышцы во время утомления на уроках .

- а) Отказаться от любого физического труда;
- б) Чередовать труд и отдых или разные виды труда;
- в) Не заниматься спортом, не делать зарядку;
- г) Принимать специальные лекарства.

В 8. Выберите органы опорно-двигательной системы

- а) глотка, лёгкие, печень
- б) головной мозг, спинной мозг
- в) глаза, уши, руки
- г) ноги, руки, сердце, позвоночник

В 9. Первая помощь при порезе

- а) облизать ранку языком.
- б) промыть рану водой,
- в) протереть рану платком,
- г) смазать вокруг раны йодом и наложить чистую повязку
- е) ничего не делать, само пройдёт

2 вариант

А 1. Назови состояние горячей воды в стакане

а) жидкое б) газообразное в) твёрдое г) мокрое

А 2. Сколько планет в солнечной системе

а) одна б) три в) девять г) двенадцать

А 3. Найди «лишний» материк

а) Южная Америка б) Австралия в) Европа г) Северная Америка

А 4. Найди верное утверждение

- а) Вокруг Солнца вращаются планеты.
- б) Вселенная вращается вокруг Солнца.
- в) Вокруг Солнца вращаются звёзды.
- г) Солнце вращается вокруг Земли.

А 5. Всё, что перечислено ниже - обитатели морей. Найди «лишнее».

а) кит б) дельфин в) щука г) медуза

А 6. Назови по порядку цвета на флаге Республики Татарстан

- а) зелёный, белый, красный
- б) белый, зелёный, красный
- в) синий, красный, белый
- г) зелёный, белый, красный

А 7. Какая река протекает по Восточно-Европейской равнине и впадает в Каспийское море

- а) Амур б) Волга в) Лена г) Енисей

В 1. Как меняется характер лесов с севера на юг

- а) хвойные - широколиственные – смешанные
б) смешанные - хвойные - широколиственные
в) широколиственные - хвойные – смешанные
г) хвойные – смешанные – широколиственные

В 2. Моря, каких океанов не омывают берега России?

- а) Атлантического б) Индийского в) Тихого
г) Северного Ледовитого

В 3. Найди лишнее

- а) сосна б) ель в) липа г) кедр д) можжевельник

В 4. Какие цепи питания составлены неправильно

- а) травянистые растения – заяц беляк – рысь
б) кедровая сосна - кедровка
в) кедровая сосна – полёвка – соболь
г) травянистые растения – заяц беляк – соболь – волк

В 5. Прочитай предложения и назови природную зону.

Южную часть этой зоны занимает тайга, так, как морозы, здесь сильные, то и растительный мир сильно отличается от южных зон. Лето здесь короткое и холодное.

- а) Арктика б) тундра в) лесная зона г) тайга

В 6. Какое событие не относится к Новейшему времени

- а) Покорение Южного полюса б) изобретение телеграф
в) начало освоения космоса г) Вторая мировая война

В.7 Естественный водоём со стоячей водой постепенно зарастает. Неразложившаяся растительность откладывается на дне, где впоследствии может образовываться торф. Такой водоём называют

- а) озером б) бассейном в) рекой г) болотом

В 8. В чём необходимость соблюдения сохранять правильной осанки.

- а) Этого требует учитель в школе и родители дома.
б) Такой совет дал врач в поликлинике.
в) Правильная осанка сохраняет наше здоровье, делает человека стройным и красивым.
г) Об этом постоянно говорят в рекламе.

В 9. Первая помощь при обморожении

- а) обратиться к врачу
б) войти в тёплое помещение
в) растереть снегом
г) приложить к месту обморожения грелку
д) выпить горячий чай

Ответы тестов по окружающему миру в 4 классах

1 вариант

№	A1	A2	A3	A4	A5	A6	A7	B1	B2	B3	B4	B5	B6	B7	B8	B9
	Г	б	В	В	В	б	б	В	б	В	В	а	а	б	б	Г

2 вариант

№	A1	A2	A3	A4	A5	A6	A7	B1	B2	B3	B4	B5	B6	B7	B8	B9
	а	В	В	а	В	а	б	Г	б	В	Г	б	а,б	Г	В	а,б,Д